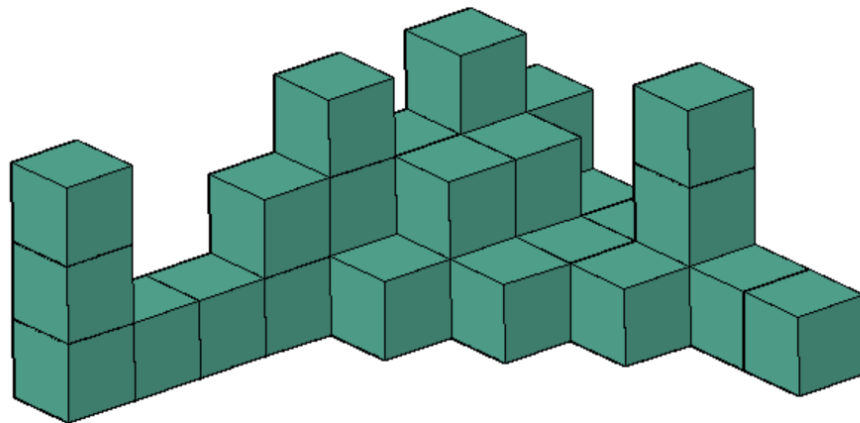


APTITUD PERCEPTIVA (RESPONDER EN 7 MINUTOS)

1. ¿Cuántos cubos forman la imagen?

- A) 32 B) 30 C) 28 D) 24



2. ¿Cuántas veces aparece la figura dada?

- A) 2 B) 5 C) 6 D) 4

PERCEPCIÓN



3. ¿Cuántas veces aparece el símbolo en la fila y columna que se indican en la tabla?

☪ - Fila 2 - Columna E

	COLUMNA A	COLUMNA B	COLUMNA C	COLUMNA D	COLUMNA E
FILA 1	☪☪☪☪☪☪ ☪☪☪☪☪☪ ☪☪☪☪☪☪ ☪☪☪☪☪☪	☪☪☪☪☪☪ ☪☪☪☪☪☪ ☪☪☪☪☪☪ ☪☪☪☪☪☪	☪☪☪☪☪☪ ☪☪☪☪☪☪ ☪☪☪☪☪☪ ☪☪☪☪☪☪	☪☪☪☪☪☪ ☪☪☪☪☪☪ ☪☪☪☪☪☪ ☪☪☪☪☪☪	☪☪☪☪☪☪ ☪☪☪☪☪☪ ☪☪☪☪☪☪ ☪☪☪☪☪☪
FILA 2	☪☪☪☪☪☪ ☪☪☪☪☪☪ ☪☪☪☪☪☪ ☪☪☪☪☪☪	☪☪☪☪☪☪ ☪☪☪☪☪☪ ☪☪☪☪☪☪ ☪☪☪☪☪☪	☪☪☪☪☪☪ ☪☪☪☪☪☪ ☪☪☪☪☪☪ ☪☪☪☪☪☪	☪☪☪☪☪☪ ☪☪☪☪☪☪ ☪☪☪☪☪☪ ☪☪☪☪☪☪	☪☪☪☪☪☪ ☪☪☪☪☪☪ ☪☪☪☪☪☪ ☪☪☪☪☪☪

- A) 16
- B) 12
- C) 13
- D) 18

4. ¿Cuántas veces aparece “A” y “a”?

Keucifticakyufgyuccyjaifuyaskjifylzkwoudofiuaxiugjuyfidugvufyaijcu ydkxfioiuygkcijfy
ugiodycgjiuxuijasyodkudsifoyaxaudjfuicaujoiuYOCKEUFYCOUARYOCJIUSYRVOC

- A) 18
- B) 10
- C) 22
- D) 14


PERCEPCIÓN

5. ¿Cuántas diferencias detectas entre estas dos imágenes?



- A) 1 B) 4 C) 2 D) 3


6. ¿Cuántos palitos habría que levantar para liberar al rojo?



- A) 5 B) 3 C) 1 D) 4

7. ¿Cuántas veces aparece la figura 7 en espejo?

PERCEPCIÓN



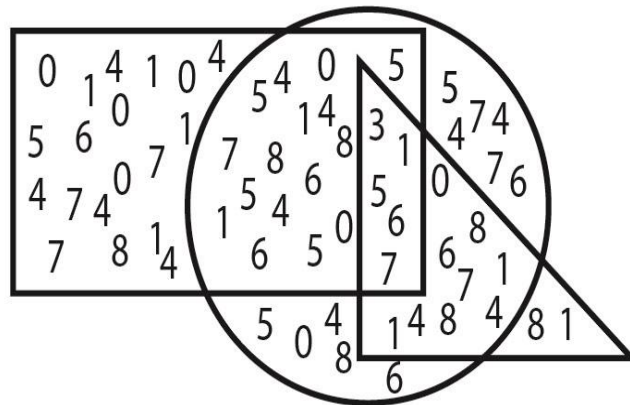
- A) 1 B) 3 C) 2 D) 4

8. ¿Cuántos carritos son distintos en las matrices?



- A) 1 B) 4 C) 6 D) 3

9. ¿Qué números pertenecen a las tres figuras?



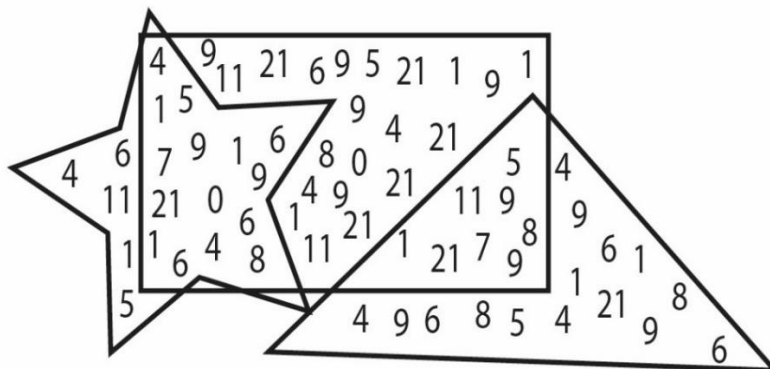
A) 3,1,5,6 y 7

B) 3,1,0 y 6

C) 1,5,6 y 0

D) 5,6 y 7

10. ¿Cuántos números diferentes hay en el triángulo que no pertenezcan ni al rectángulo ni a la estrella?



A) 6

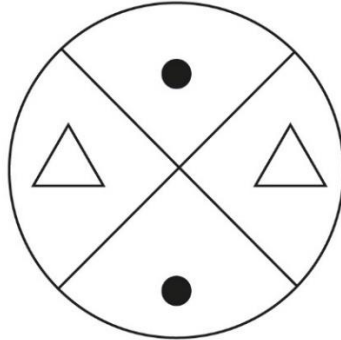
B) 7

C) 9

D) 11

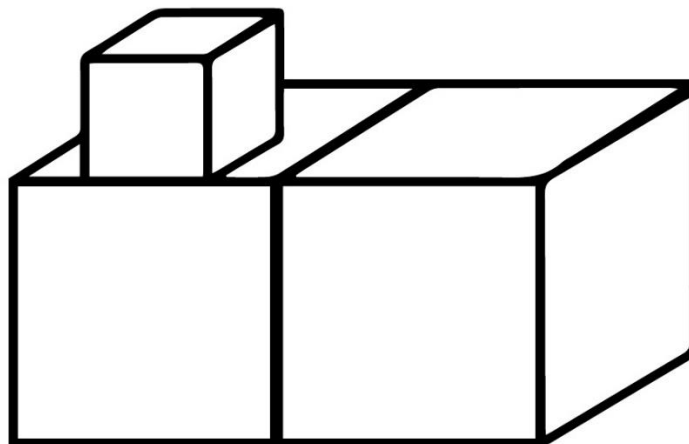
PERCEPCIÓN

11. ¿Cuál de las siguientes definiciones es más correcta para describir la imagen?



- A) Un círculo dividido por sus diagonales y con figuras geométricas en su interior.
- B) Una circunferencia dividida por sus radios y con triángulos isósceles y círculos en su interior.
- C) Un círculo dividido por sus radios y con triángulos isósceles y círculos en su interior.
- D) Ninguna de las anteriores es correcta.

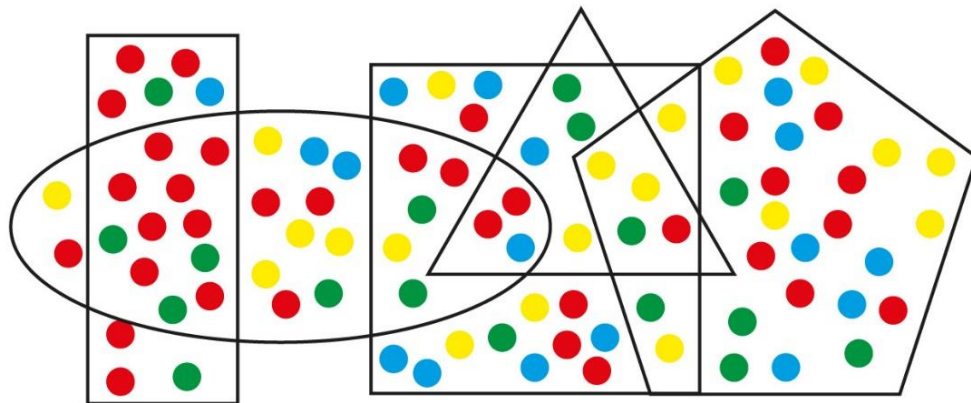
12. ¿Cuál de las siguientes definiciones es más correcta para describir la imagen?



PERCEPCIÓN


- A) Tres cubos, dos de ellos en la parte inferior y otro en la parte superior.
- B) Tres cubos, dos de gran tamaño y uno de menor tamaño que los dos anteriores.
- C) Dos cubos, uno endosado al otro. Centrado sobre la cara superior del cubo de la izquierda hay otro cubo de menor tamaño.
- D) Un cubo sobre otro cubo inferior. Junto a éste se encuentra otro cubo, que se tocan por sus vértices. Este último es de mayor tamaño

13. ¿Cuántos puntos azules pertenecen a la combinación de la elipse, el cuadrado y el triángulo?



- A) 5
- B) 2
- C) 3
- D) 1

14. Encuentra la secuencia en una de las opciones, sino está en ninguna opción poner la opción D



15. ¿En cuál de las opciones se encuentra oculta la figura de la izquierda?

